



Weet je nu wanneer een dorp een spookdorp wordt?

Om die vraag te beantwoorden moet je eerst weten of de grond kan worden bewerkt met machines. Je moet ook weten of de dorpen goed bereikbaar zijn; zijn de wegen in orde en zijn er steden in de buurt? Weet je dat allemaal? Dan kun je de vraag beantwoorden!



Platteland met groeiende bevolking

In een groot deel van Europa vind je het platteland. Er zijn plattelandsgebieden met dorpen waar veel mensen wonen en waar de bevolking zelfs groeit. Boeren kunnen daar goed geld verdienen. De landbouw gaat vooral goed in gebieden die vlak en vruchtbaar zijn. Zo'n gebied is Picardië in Noord-Frankrijk.

In deze gebieden verbouwen de boeren hun producten met machines. De mechanisatie van de landbouw heeft ervoor gezorgd dat één boer een enorm stuk grond kan bewerken. Door deze schaalvergroting kunnen de boeren goedkoper produceren. Dat is wel nodig want er is veel concurrentie.

Veel boeren bespuiten hun producten met bestrijdingsmiddelen. Daardoor worden de granen en groenten niet ziek en kunnen de boeren ze goed verkopen.

Van de landbouwbedrijven en dorpen zijn er goede wegen naar de steden en andere gebieden. Daardoor zijn de gebieden goed bereikbaar voor import- en exportbedrijven. Boerenfamilies wonen in de dorpen en kunnen voor boodschappen makkelijk naar de stad. Er zijn ook mensen die in de stad werken en voor de rust in de dorpen gaan wonen.

Platteland waar mensen weggaan

In andere plattelandsgebieden verlaten de boeren hun dorpen. Ze kunnen niet genoeg geld verdienen met hun landbouwbedrijf. Zij vertrekken naar steden om werk te zoeken. Zo'n streek met veel leegloop is de Auvergne in Zuid-Frankrijk. Landbouw is in deze gebieden moeilijk omdat er veel hoogteverschillen zijn en de grond niet zo vruchtbaar is. Daardoor kunnen boeren niet meedoen aan de schaalvergroting en de mechanisatie. Vanuit de dorpen in deze gebieden ben je niet zo snel in de steden. De wegen slingeren tussen de bergtoppen. Mensen zijn lang onderweg om boodschappen te doen in de stad. Dorpsbewoners die naar de stad vertrekken voor werk, blijven daarom niet in hun oude dorp wonen. Als er steeds meer mensen vertrekken, verdwijnen ook steeds meer voorzieningen zoals winkels en scholen. Wanneer iedereen is vertrokken, is het dorp een spookdorp geworden. Toch is er wel hoop voor deze gebieden. Toeristen komen er graag en zij zorgen voor werk.

Begrippen

- de bergtop
- de bestrijdingsmiddelen
- de export
- de hoogteverschillen
- de import
- de leegloop
- de mechanisatie
- de schaalvergroting
- het spookdorp
- de voorzieningen
- de vruchtbare grond

Topolijst

- Frankrijk
- Portugal
- Spanje
- Parijs
- Bordeaux
- Lille
- Lyon
- Marseille
- Straatsburg
- Lissabon
- Madrid
- Barcelona
- de Seine
- de Rhône
- de Middellandse Zee
- de Straat van Gibraltar
- de Pyreneeën
- Corsica

3 Wanneer wordt een dorp een spookdorp?



Woordenboekje

afgelegen

ver van dorpen of steden

Ons vakantiehuisje lag heel afgelegen.
Er waren helemaal geen andere huizen in de buurt.

de bevolking

de mensen die in een land, gebied of plaats wonen

De bevolking van Nederland bestaat uit ongeveer 16 miljoen mensen.

bewerken

de grond van een stuk land klaarmaken om er iets op te laten groeien

Voordat een boer kan zaaien, moet hij het land eerst bewerken.

het graan

plant waar kleine korrels aan groeien, van die graankorrels wordt meel gemaakt

Graan is een belangrijke grondstof voor brood en koek.

oogsten

groente en graan van het land halen en fruit plukken als het rijp is

In september worden in Frankrijk de druiven geoogst.

produceren

maken, of laten groeien

De landbouwbedrijven in Picardië produceren veel graan.

steil

als iets heel schuin omhoog of naar beneden gaat

Die bergweg is zó steil, dat je er niet met de fiets naar boven kunt rijden.

de streek

het gebied

Toscane is een prachtige streek in Italië.

de verbinding

weg of spoorlijn van de ene naar de andere plek

Door de nieuwe snelweg is er een goede verbinding tussen die twee steden.

verbouwen

iets op een stuk land laten groeien

Mijn opa verbouwt aardappels en bloemkool op zijn land.



Toetsles

4 Wat heb je geleerd?

Hoofdstuk 3 Les 4


Wat heb je geleerd? Wanneer wordt een dorp een spookdorp? Om die vraag te beantwoorden moet je eerst weten of de grond kan worden bewerkt met machines. Je moet ook weten of de dorpen goed bereikbaar zijn; zijn de wegen in orde en zijn er steden in de buurt? Weet je dat allemaal? Dan kun je de vraag beantwoorden!





Platteland met groeiende bevolking

In een groot deel van Europa vind je het platteland. Er zijn plattelandsgebieden met dorpen waar veel mensen wonen en waar de bevolking zelfs groeit. Boeren kunnen goed geld verdienen, bijvoorbeeld door graan of groente te telen. Met de landbouw gaat het vooral goed in gebieden die vlak en vruchtbaar zijn. Zo'n gebied is Picardië in Noord-Frankrijk. In deze gebieden verbouwen de boeren hun producten met machines. De mechanisatie van de landbouw heeft ervoor gezorgd dat één boer een enorm stuk grond kan bewerken. Door deze schaalvergroting kunnen de boeren goedkoper produceren. Dat is wel nodig want er is veel concurrentie. Veel boeren bespuiten hun producten met bestrijdingsmiddelen. Daardoor worden de granen en groenten niet ziek en kunnen de boeren ze goed verkopen.

Van de landbouwbedrijven en dorpen zijn goede wegen naar de steden en andere gebieden. Daardoor zijn de gebieden goed bereikbaar voor import- en exportbedrijven. Boerenfamilies wonen in de dorpen en kunnen voor boodschappen makkelijk naar de stad. Er zijn ook mensen die in de stad werken en voor de rust in een dorp gaan wonen.





Topolijst

- Frankrijk
- Portugal
- Spanje
- Parijs
- Bordeaux
- Lille
- Lyon
- Marseille
- Straatsburg
- Lissabon
- Madrid
- Barcelona
- de Seine
- de Rhône
- de Middellandse Zee
- de Straat van Gibraltar
- de Pyreneeën
- Corsica

Begrippen

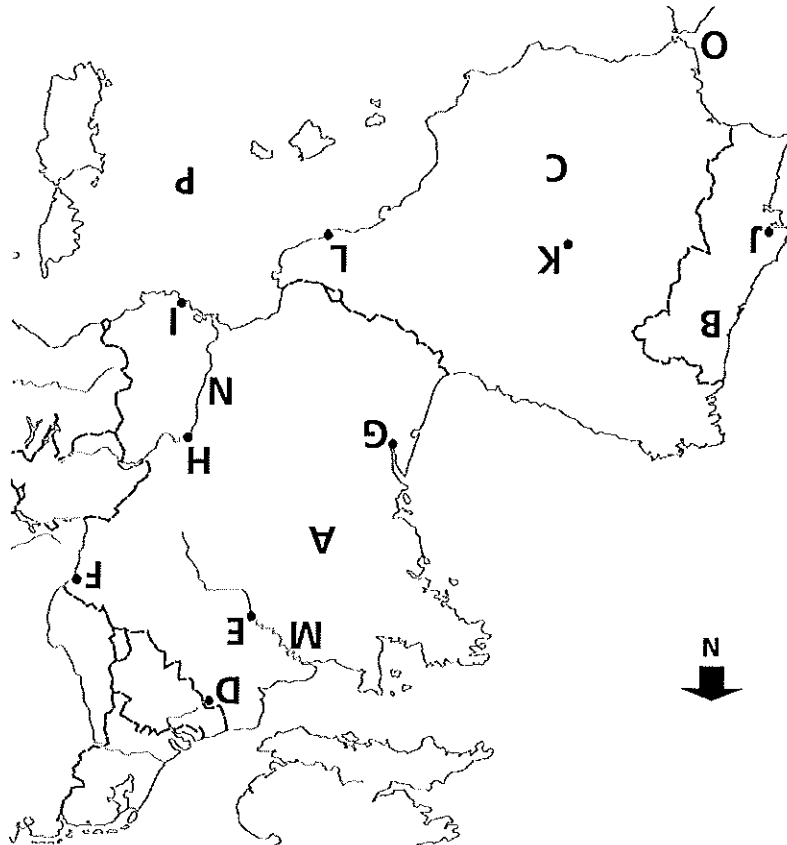
- de bergtop
- de bestrijdingsmiddelen
- de export
- de hoogteverschillen
- de import
- de leegloop
- de mechanisatie
- de schaalvergroting
- het spookdorp
- de voorzieningen
- de vruchtbare grond

Platteland waar mensen weggaan

In andere plattelandsgebieden verlaten de boeren hun dorpen. Ze kunnen niet genoeg geld verdienen met hun landbouwbedrijf. Zij vertrekken naar steden om werk te zoeken. Zo'n streek met veel leegloop is de Auvergne in Zuid-Frankrijk, een gebied met veel oude vulkanen. Landbouw is in deze gebieden moeilijk omdat er veel hoogteverschillen zijn en de grond niet zo vruchtbaar is. Daardoor kunnen boeren niet meedoen aan de schaalvergroting en de mechanisatie. Kleine boeren kunnen ook niet zo goedkoop verbouwen als de grote landbouwbedrijven. Vanuit de dorpen in deze gebieden ben je niet zo snel in de steden. De wegen slingeren tussen de bergtoppen. Mensen zijn lang onderweg om spullen te vervoeren of boodschappen te doen in de stad. Dorpsbewoners die werk hebben gevonden in de stad blijven daarom niet in hun oude dorp wonen. Als er steeds meer mensen vertrekken, verdwijnen ook steeds meer voorzieningen zoals winkels en scholen. Wanneer iedereen is vertrokken, is het dorp een spookdorp geworden. Toch is er wel hoop voor deze gebieden. Toeristen komen er graag en zij zorgen voor werk.



- ☐☐ Toetsboekje toets 3
- Cd-rom oefentoets



- 1)** Noem de letters A t/m L en zeg welk land of welke plaats het is.
A = Frankrijk, B = Portugal, C = Spanje, D = Lille, E = Parijs, F = Straatsburg, G = Bordeaux, H = Lyon, I = Marseille, J = Lissabon, K = Madrid, L = Barcelona

Noem de letters M t/m P en zeg welke rivier of welke zee het is.
M = Seine, N = Rhône, O = Straat van Gibraltar, P = Middellandse Zee

- 2)** Welke plaats ligt aan de rivier de Seine? *Parijs (letter E)*
- 3)** Langs welke plaats kom je als je reist van Lissabon naar Barcelona? *Madrid (letter K)*
- 4)** Welke plaats ligt in het noorden van Frankrijk? Lille of Bordeaux? *Lille (letter D)*
- 5)** Welke plaats ligt aan de Middellandse Zee? Lissabon of Marseille? *Marseille (letter I)*
- 6)** Welke plaats ligt aan de Rhône? Straatsburg of Lyon? *Lyon (letter H)*
- 7)** Bij welk Europees land ligt de Straat van Gibraltar? *Spanje*
- 8)** Welke rivier komt uit in de Middellandse Zee? De Seine of de Rhône? *de Rhône*